

**DIPLÔME NATIONAL DU BREVET**  
**SESSION 2014**

**ÉPREUVE D'HISTOIRE - GÉOGRAPHIE ET  
D'ÉDUCATION CIVIQUE**

Durée de l'épreuve : 2 heures  
Coefficient : 2

Histoire : /13 points

Géographie : /13 points

Education civique : /10 points

Expression écrite et orthographe : /4 points

Note finale : /40 points

**ATTENTION** : Les candidats répondent directement sur le sujet.  
Agrafer le sujet dans le bas de la copie d'examen.

**Ce sujet comporte 12 pages numérotées de 1/12 à 12/12.**

*L'usage du dictionnaire et de la calculatrice n'est pas autorisé.*

**PREMIERE PARTIE : HISTOIRE (13 points)**

**I – QUESTIONS (6 points)**

**1 – Repères historiques du collège (3 points)**

a) Identifiez les monuments suivants ...

-... en utilisant les termes : une église gothique, le Parthénon, un Château de la Renaissance, une église romane

-.... en utilisant les dates : X<sup>e</sup> / XII<sup>e</sup> siècles ; XII<sup>e</sup> / XV<sup>e</sup> siècles ; V<sup>e</sup> siècle avant J.-C. ; XV<sup>e</sup>-XVI<sup>e</sup> siècles.

b) Trois de ces monuments ont une fonction religieuse. Quel est l'intrus ?

.....



● .....

□ ..... siècle



● .....

□ ..... siècle



● .....


□ ..... siècle



● .....

□ ..... siècle

2 – En rédigeant un développement construit, vous expliquerez pourquoi on dit que la Première Guerre mondiale est une « guerre totale ». (3 points)



II – TRAVAIL SUR DOCUMENT (7 points)

Couverture du magazine "Vu" - 17 juin 1936 © Musée de l'Histoire Vivante - Montreuil



1 – Quelle coalition politique gagne les élections législatives en France en 1936 ? Citez deux partis la constituant. (2 points)

.....

.....

.....

2 – Dans quelles circonstances (économiques, sociales, politiques) ces élections ont-elles lieu ? (3 points)

.....

.....

.....

3 – Ce document illustre une mesure prise après la victoire de cette coalition. Laquelle ? (1 point)

.....

.....

.....

4 – Cette image de bonheur concerne-t-elle vraiment tous les Français (justifier votre réponse) ?  
(1 point)

.....

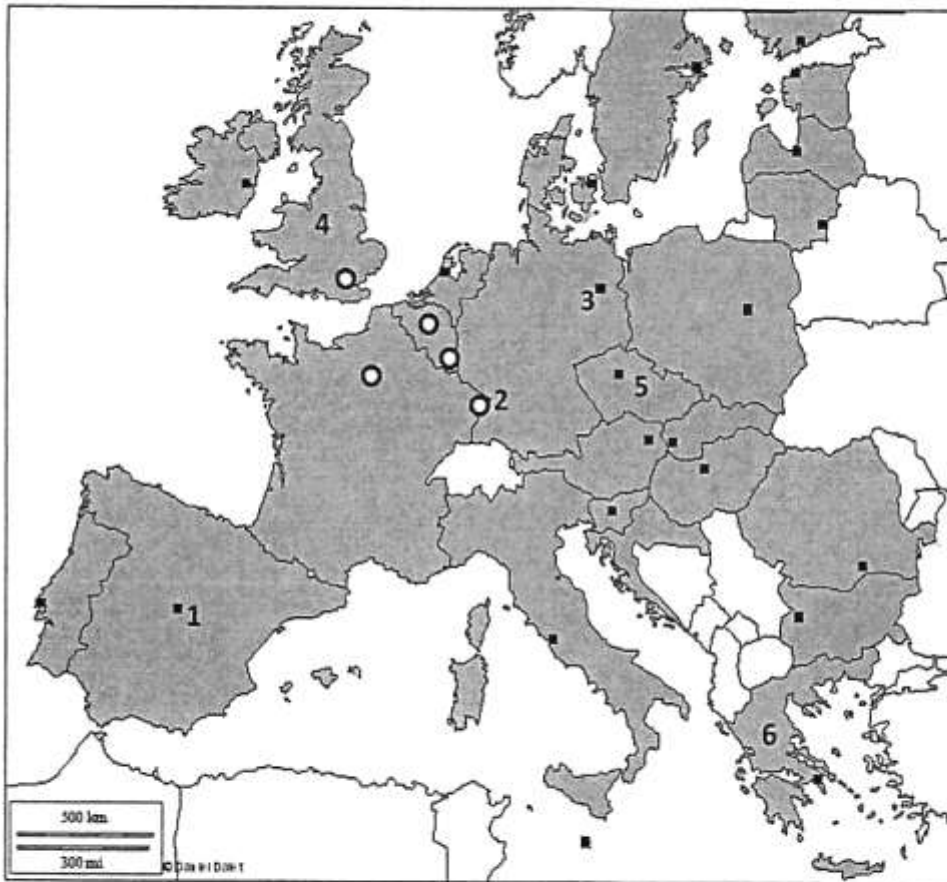
.....

.....

**DEUXIEME PARTIE : GEOGRAPHIE (13 points)**

**I – QUESTIONS (5 points)**

1 – Répondez aux questions suivantes à partir de la carte. (3 points)



a) Complétez la carte et la légende :

■ .....

○ Capitale institutionnelle de l'UE

○ Ville mondiale

■ Autre métropole européenne

b) Ecrivez dans le tableau ci-dessous le nom des villes et des Etats numérotés sur la carte :

Nom des villes		Nom des Etats	
1	.....	4	.....
2	.....	5	.....
3	.....	6	.....

2 – Faites correspondre chaque titre (colonne de droite) avec le schéma qui convient (colonne de gauche) (2 points)



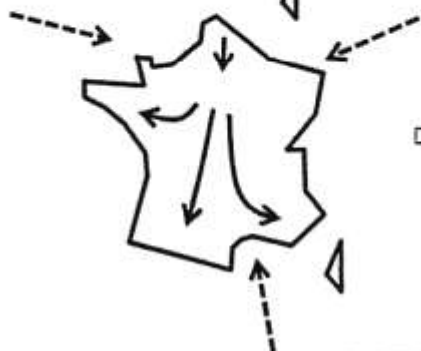
Les métropoles, espaces-moteurs du dynamisme français



Des territoires au dynamisme contrasté

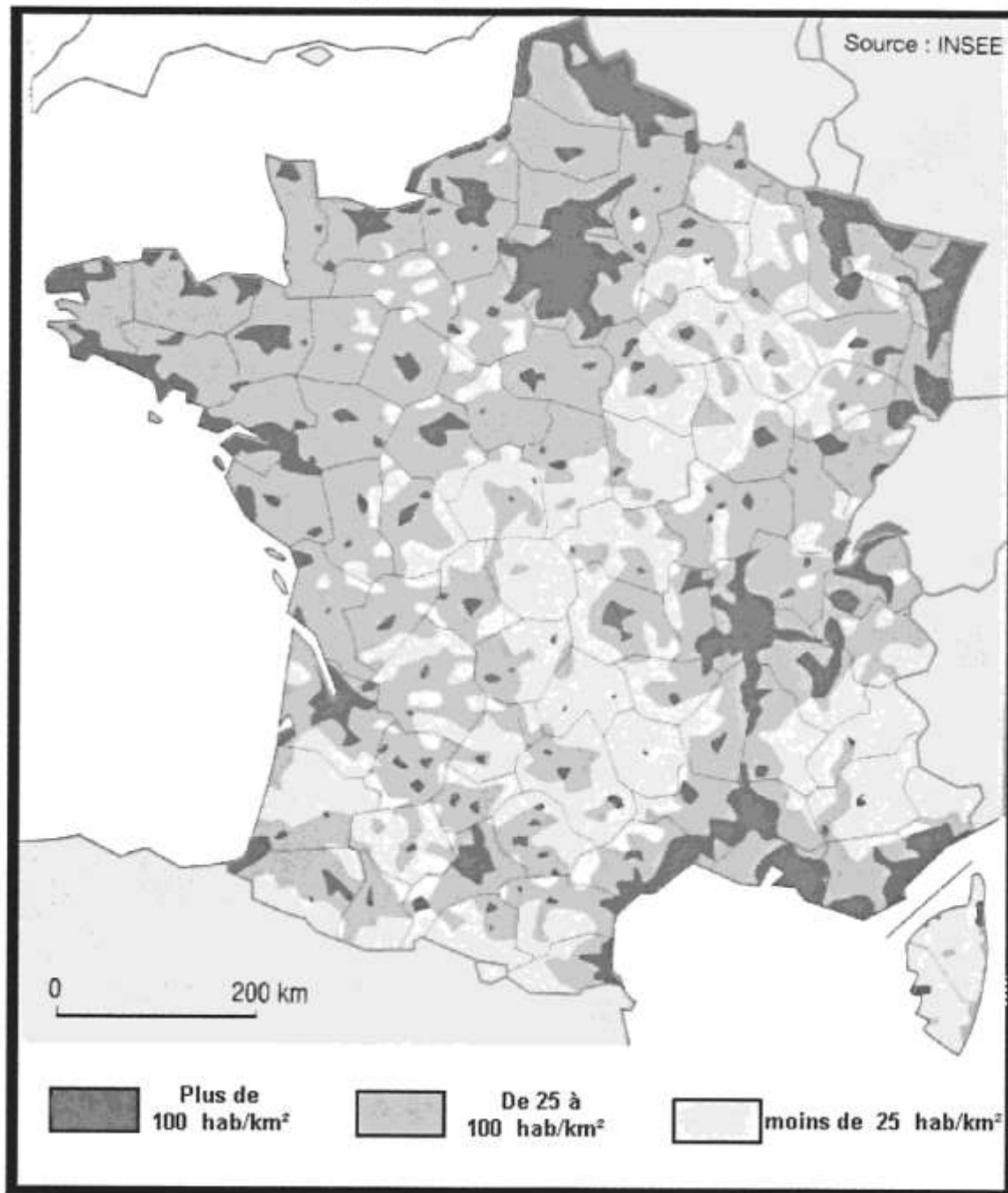


Un territoire dynamisé par les flux migratoires



Un territoire bien relié à l'Europe et au monde

II – TRAVAIL SUR DOCUMENT (8 points) :



1 – Donnez une définition de la densité. (1 point)

.....

.....

.....



2 – A l'aide de la carte et de vos connaissances nommez quatre espaces fortement peuplés. Numérotez-les et localisez-les sur la carte. (4 points)

<hr/> <hr/> <hr/> <hr/>
-------------------------

3 – Donnez trois explications aux fortes densités. (1,5 point)

<hr/> <hr/> <hr/> <hr/> <hr/> <hr/> <hr/> <hr/> <hr/> <hr/> <hr/> <hr/> <hr/> <hr/> <hr/> <hr/> <hr/> <hr/> <hr/> <hr/> <hr/> <hr/> <hr/> <hr/>
---

4 – Il manque une donnée importante sur la carte-document, laquelle ? (0,5 point)

<hr/> <hr/>
-------------

5 – Donnez un titre à la carte. (1 point)

<hr/> <hr/>
-------------

**TROISIEME PARTIE : EDUCATION CIVIQUE (10 POINTS)**

**I – QUESTIONS (5 points) :**

1 – La mise en place d'un système de Sécurité sociale en 1945 respecte deux valeurs républicaines : l'égalité et la fraternité. Expliquez pourquoi. (2 points)

.....

.....

.....

.....

.....

.....

2 – Citez deux institutions de l'ONU : l'une visant à garantir la sécurité collective, l'autre à promouvoir le développement. (2 points)

- .....
- .....

3 – Citez deux symboles de la République française. (1 point)

- .....
- .....

.....

**II – TRAVAIL SUR DOCUMENT (5 points) :**

**Extraits de la Constitution de la V<sup>e</sup> République**

**ARTICLE 5.**

Le Président de la République veille au respect de la Constitution. Il assure, par son arbitrage, le fonctionnement régulier des pouvoirs publics ainsi que la continuité de l'État. [...]

**ARTICLE 6.**

Le Président de la République est élu pour cinq ans au suffrage universel direct.

Nul ne peut exercer plus de deux mandats consécutifs. [...]

**ARTICLE 7.**

Le Président de la République est élu à la majorité absolue des suffrages exprimés. Si celle-ci n'est pas obtenue au premier tour de scrutin, il est procédé [...] à un second tour. Seuls peuvent s'y présenter les deux candidats qui [...] se trouvent avoir recueilli le plus grand nombre de suffrages au premier tour. [...]

**ARTICLE 8.**

Le Président de la République nomme le Premier ministre. Il met fin à ses fonctions sur la présentation par celui-ci de la démission du Gouvernement.

Sur la proposition du Premier ministre, il nomme les autres membres du Gouvernement et met fin à leurs fonctions. [...]

**ARTICLE 12.**

Le Président de la République peut, après consultation du Premier ministre et des présidents des assemblées, prononcer la dissolution de l'Assemblée nationale. [...]

1 – De quand date cette constitution ? Qui en fut le premier Président ? (1 point)

.....
.....
.....
.....
.....

2 – Souligner dans le texte un élément prouvant que la France est une démocratie. (1 point)

3 – Quel pouvoir le Président de la République exerce-t-il ? Quel est la durée de son mandat ? (1 point)

.....
.....
.....

4 – Dans l'article 12, il est question *des présidents des assemblées*. Quel est le nom de ces assemblées ? Quel pouvoir exercent-elles ? (1,5 point)

.....
.....
.....
.....

5 – Que se passe-t-il après la dissolution de l'Assemblée nationale ? (0,5 point)

.....
.....
.....