

EJERCICIOS DE ATENCIÓN Y CONCENTRACIÓN

1.- Las distintas palabras están relacionadas entre sí, escriba en la línea la palabra que sea la consecuencia de las otras dos.

| | | | |
|---|------------|-----------|-------|
| * | Salida | Viaje | _____ |
| * | Mercurio | Venus | _____ |
| * | Mediodía | Tarde | _____ |
| * | Pierna | Tobillo | _____ |
| * | Abuelo | Padre | _____ |
| * | Frío | Tibio | _____ |
| * | Enfermedad | Agonía | _____ |
| * | Horizontal | Inclinado | _____ |
| * | Sargento | Teniente | _____ |
| * | Norte | Noroeste | _____ |

2.- ¿ Puede encontrar tres números cuyas suma sea igual a su producto?
Es decir, tres números que reúnan la siguiente condición:

$$\dots\dots + \dots\dots + \dots\dots = \dots\dots \times \dots\dots \times \dots\dots$$

considerando además que ninguno de los tres números pueda ser cero.

3.- Resuelva los siguientes ejercicios ordenando y colocando los signos de operaciones aritméticas correspondientes.

$$2 \quad 2 \quad 2 \quad 2 \quad 2 = 24$$

$$2 \quad 2 \quad 2 = 24$$

$$6 \quad 6 \quad 6 = 30$$

$$3 \quad 3 \quad 3 = 30$$

4.- Utilizando una de las operaciones aritméticas: suma, resta, Multiplicación, ¿qué número deberá remplazar el signo de interrogación del diagrama?

| | | | | |
|---|---|---|---|---|
| 7 | 2 | 9 | 8 | 8 |
| ? | 7 | 3 | 4 | 5 |
| 1 | 4 | 3 | 5 | 7 |

6.- QUE LETRA ESTA REPETIDA

En el siguiente grupo de letras, expuestas a
Renglón seguido, todas son diferentes,
MENOS UNA que esta repetida
¿Cuál es?



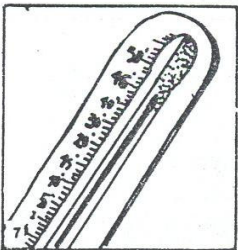

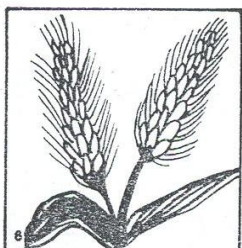
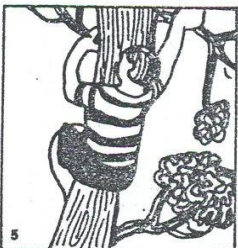
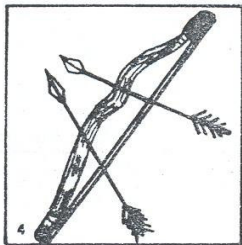


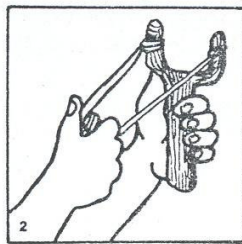
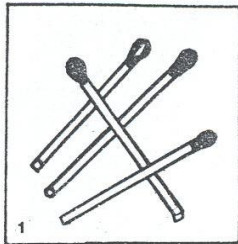
A X K D N L CH W E S J T G H

N P LL V C I M Q R O F L U B



7.- Las siguientes palabras están en desorden ¿Puedes ordenarlas?

| | |
|---------|-------------|
| CAVA | LBUAFO |
| REIGT | LOCMAEL |
| BALCLOA | ROBUR |
| ATOG | EFTANELE |
| NOTAR | SOO |
| LARGOI | NEOL |
| RTANEP | RABAC |
| LMALA | NENRETORIOC |
| LRNAMDI | OMNO |
| LOJEUAZ | RACAINO |
| RLIOM | |
| LALUGR | |

8.- En las dos primeras columnas verticales hay dibujos numerados del 1 al 10, cada uno de los cuales representa el comienzo de una acción que termina en alguno de los diez cuadros de las dos columnas de la derecha. Indique con el mismo número en qué cuadro finaliza cada acción.



9.- En la siguiente lamina hay dos figuras que aparentemente son iguales, pero la figura B tiene 10 elementos menos que la figura A.




10.- Identifica cuales de estos dibujos se escriben con las mismas letras.

Ejemplo: Ocas-saco



11.- El dibujante quiso divertirse y escondió muchos animales en esta escena ¿ los encuentras? Son en total 19



12.- En estos cuadrados hay 4 elementos, 3 son parecidos entre sí; el cuarto es diferente.

