

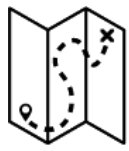


## A EXPANSÃO MONGOL

A atividade ajuda a considerar a presença de impérios e de grandes figuras que não pertencem ao mundo "norte ocidental" na história e a desenvolver a **capacidade de descentramento** (que é, neste caso, a capacidade de entender a importância histórica de diferentes elementos em detrimento dos que são próximos da nossa cultura de referência).

DIFICULDADE 2/4



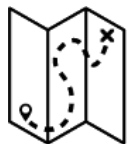


## ESTE MAPA MOSTRA A EXPANSÃO DO IMPÉRIO MONGOL DURANTE O SÉCULO XIII.

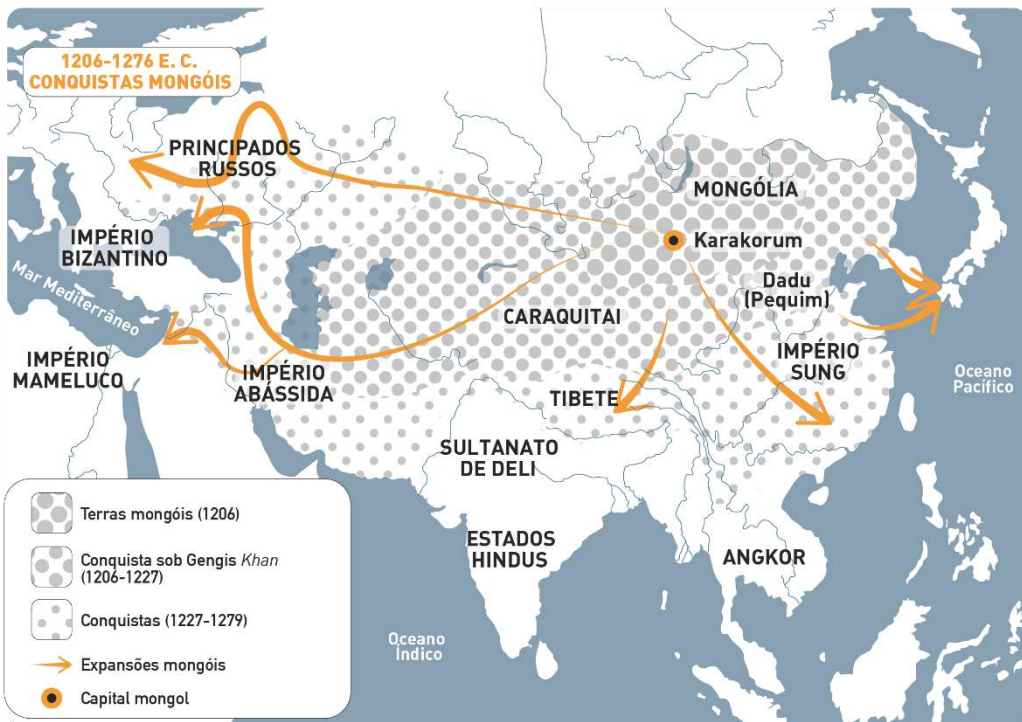
1206 E.C-1276 E.C  
CONQUISTAS MONGÓIS

A ajuda das populações turcas foi essencial para a expansão





OBSERVA ATENTAMENTE A GRANDE DIMENSÃO DO IMPÉRIO MONGOL NO MAPA. EM SEGUIDA, REFLETE.




Ao longo da história, antes do Império Mongol, existiram outros impérios com a mesma dimensão?

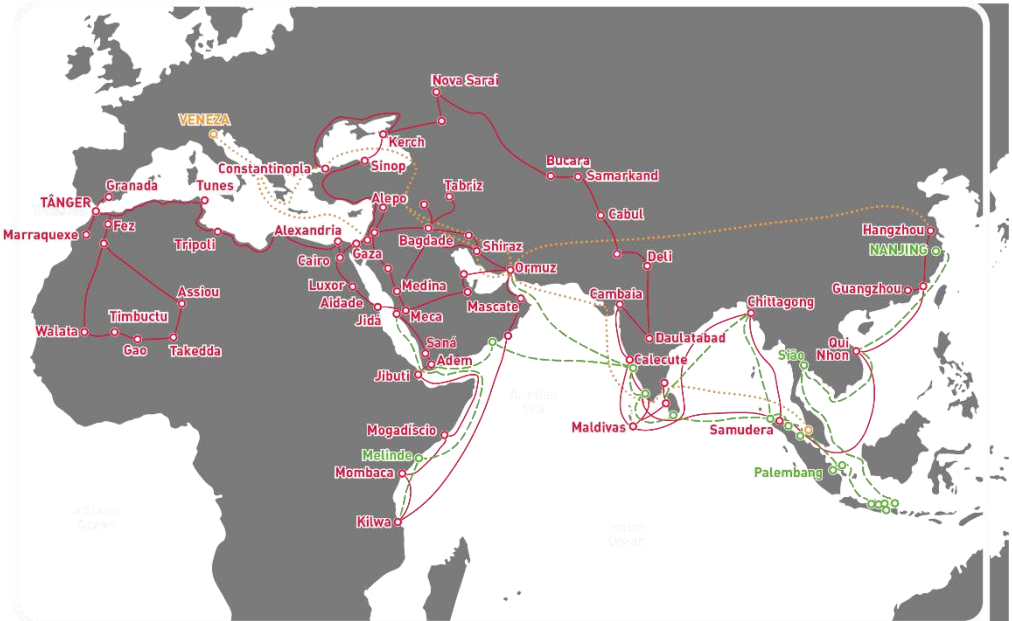
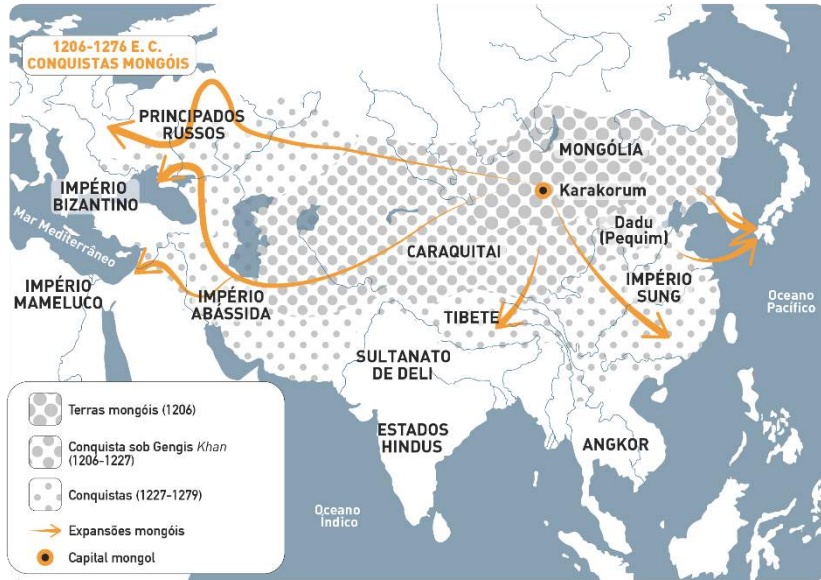
---

---

---



## COMPARA O MAPA DAS VIAGENS DE IBN BATTUTA, MARCO POLO E ZHENG HE.



Na tua opinião, a presença do Império Mongol terá encorajado a viagem de Marco Polo da Europa até à China? Justifica a tua resposta.



Tenta encontrar na internet que observações fez Marco Polo após a sua viagem à China.



Procura mais informações num motor de busca da internet para comparar o número de páginas *web* que mencionam o nome de Marco Polo e o número de páginas que mencionam os nomes dos outros dois viajantes. Tenta explicar os motivos das diferenças nos números.