



Tercer trimestre
El cole en casa

SE ACERCA EL VERANO

Primera Parte

¿Cómo están nuestros chicos y chicas de cuarto? ¿Se pueden creer que ya estamos en junio? ¡Nosotras la verdad que no lo podemos creer!

El final de curso se acerca, nos quedan apenas tres semanitas de cole en casa. Así que les mandamos mucho ánimo, sabemos que ya están cansaditos/as, pero también sabemos que van a seguir haciéndolo genial. ¡No nos cabe duda! ¡Estamos súper orgullosas del trabajo que han hecho a lo largo de toda la cuarentena!

Durante este mes de junio el protagonista de nuestras actividades no puede ser otro que el verano. Serán actividades más fresquitas que nos irán preparando para una de las estaciones más especiales del año. ¿Están listos/as para la llegada de las vacaciones? No se preocupen que...

¡Estas semanas iremos calentado motores!

Les recordamos que cuentan con un correo electrónico que hemos creado para poder estar en contacto si fuera necesario. Sabemos que pueden surgir dudas o simplemente quieren comentarnos algo.

May: tutora de 4ºA y especialista de Inglés y CLIL en los dos grupos:

Trabajoencasacole2020@gmail.com

Ana: tutora de 4ºB y especialista de Ciencias Sociales y Ciencias Naturales en los dos grupos:

sarmientoanaorobal@gmail.com

¡Un besote enorme!

Semana del 01 al 05 de junio

Día 1. Lunes 01. El cole en casa

CANCIÓN DE VERANO

Pincha en el siguiente enlace y podrás escuchar una canción. Tienes que estar muy atento/a, ya que después tendrás que contestar a una serie de preguntas. Sube el volumen y... ¡A bailar!

<https://www.youtube.com/watch?v=YWxMbCb7YMA>

Después de escuchar la canción, contesta a las siguientes preguntas basándote en la letra de la canción:

1. ¿Cómo son los días y las noches en verano?
2. Escribe tres cosas que puedas tomar en verano.
3. Escribe tres planes que puedas hacer en verano.
4. Escribe tres cosas con las que te puedas refrescar.



Esta actividad mándala al correo de tu tutora.

Tienes un plazo de una semana.

ARTE VERANIEGO

A) Juan es pintor. En este momento ha pintado tres cuadros. En la realización de cada cuadro ha tardado un tiempo determinado. Calcula cuánto tiempo total ha necesitado para la realización de los tres cuadros.



La playa: 2 horas y 30 minutos



Hora de comer: 6 horas y 15 minutos




La barca: 4 horas y 15 minutos


B) El último cuadro de Juan se titula: “**El barco de Miguel**” Debes realizar una versión del cuadro, teniendo en cuenta que el barco mide: 12,5 cm de largo y 8 cm de alto. El barco tiene una vela con forma de triángulo equilátero. El palo que sostiene la vela mide 15 cm. Realiza el dibujo.

Día 2. Martes 02. El cole en casa

¿PLAYA O MONTAÑA?







Para pasar tus vacaciones de verano... ¿Qué prefieres? ¿La playa o el campo? Vamos a intentar ponernos en las dos posturas, así que tendrás que pensar las ventajas y los inconvenientes de cada uno de ellos. Al menos escribe cuatro de cada tipo.

LA PLAYA	
VENTAJAS	INCONVENIENTES
	

EL CAMPO	
VENTAJAS	INCONVENIENTES
	

WEATHER DRAW

1.- Draw. Dibuja.

<p><u>Draw the weather</u></p> 	<p>1. Today it's sunny</p> 
<p>2. Today it's windy</p> 	<p>3. Today it's cloudy</p> 
<p>4. Today it's rainy</p> 	<p>5. Today it's snowy</p> 

Día 3. Miércoles 03. El cole en casa

ADIVINA, ADIVINANZA ESPECIAL VERANO...

Resuelve las siguientes adivinanzas relacionadas con el verano...

¿Serás capaz?

ADIVINANZA N°1

Ando siempre en verano,
unas veces abierto,
otras veces cerrado.

ADIVINANZA N°2

Guardado en invierno,
lo luzco en verano,
es mi único traje
en sitios de baño.



ADIVINANZA N°3

Donde cielo y tierra se suelen juntar,
también se juntan las nubes y las olas del mar.
Vayas donde vayas siempre lo verás,
por mucho que andes nunca llegarás.

ADIVINANZA N°4

Unas tras otras vienen sin cesar,
haciendo ruido en el agua vienen,
haciendo ruido se van, y
mañana de la misma forma vendrán.

Inventa tú la **ADIVINANZA N°5** y May y Ana tratarán de adivinarla.

¡Manda las respuestas a tu tutora para comprobar que has acertado!

Tienes de plazo una semana.

SEGUIMOS ADIVINANDO...

a) ¿Cuál es el valor de las sandalias de playa si el conjunto de todo tiene un valor de 20.000 puntos?



Tiene un valor de 2.500 puntos



Tiene un valor de 6.900 puntos



Tiene un valor de 7.320 puntos



Tiene un valor de _____

b) Dibuja dentro del cuadrado los dibujos que necesites para que el cuadrado tenga un valor total de 9.820 puntos.



c) Estos cinco objetos tienen el mismo valor. Si entre los cinco valen 1875 puntos. ¿Cuánto vale cada uno?



Día 4. Jueves 04. El cole en casa

EN LA PLAYA

Imagina una escena de playa teniendo en cuenta estos 20 objetos que se encuentran en ella:

5/20 son sombrillas

6/20 son cubos para jugar en la arena

3/20 son gafas de sol

4/20 son palmeras.


¿?

Observando las fracciones, contesta:

a) ¿Cuántos objetos faltan por nombrar?

c) Escribe la fracción correspondiente a los objetos que faltan. Inventa tú el tipo de objetos.


Dibuja la escena de playa teniendo en cuenta los datos anteriores:



ALL ABOUT SUMMER

Draw everything. Use the dictionary if you'll need.

Dibuja lo que se te pide en cada apartado pensando en cosas que has hecho en tus veranos. Usa el diccionario si lo necesitas.



Día 5. Viernes 05. El cole en casa

PASATIEMPOS

Busca en la sopa de letras las palabras que te proponemos relacionadas con la playa. Rodea de azul los sustantivos masculinos y de rojo los sustantivos femeninos.

EN LA PLAYA

L X X A B A A P O O A B T C J A T P H B
A O I T H T T L M C O B K A V R Q F F K
T Z U S O J A E R G M H A R Y N B V R N
Z R Q I J D F A N L D L W A K Y N E I U
H C V R A C B A T O L S H C A L L A O T
L A C R O B A Z L I H B X O P L A Y A X
G D B O T X S N R L O C T L Z E P R L L
B E S C N R M B G U I P L A B M O I Y W
P Y H O O C M T E R H R A O N P N P D R
A R Z S P O H X H A E K O U C H R Z M E
W L Z F S F X A M N S J T U M B O N A S
T J G H K W R A S E A V O V U M M Q R J
E R N A H Y C X G R C T W L Z B P P F X
O R B Y M A R X N A A A S G S E U L A N
H H Y U N W O U S Q D N I I X I O E L X
T H A G R O D A E C N O R B F T B I E B
D Z F P X S A N D A L I A S A R Q R T N
P H S L Z Y Ñ R F D R F P D B T U Q A N
S R N E D P A M N Y Y F O C B I Z S S P
S B J D T P B M O R E R B M O S B I Q W

- ALETAS
- ALGA
- ARENA
- BARCA
- BAÑADOR
- BRONCEADOR
- CANGREJO
- CARACOLA
- COLCHONETA

- CONCHAS
- FLOTADOR
- GAVIOTA
- HAMACA
- MAR
- OLA
- ORILLA
- PEZ
- PLAYA

- SANDALIAS
- SOCORRISTA
- SOMBRERO
- SOMBRILLA
- SURFISTA
- TOALLA
- TUMBONA

SUDOKU

Vas a partir de algunas figuras geométricas ya dispuestas en algunas de las casillas. Hay que rellenar las casillas vacías con las figuras estrella, cuadrado, cruz, corazón, triángulo y círculo. No se debe repetir ninguna figura en una misma fila, columna o región.

