



EXAMEN EXTRAORDINARIO DEL ÁMBITO SOCIAL

1º ESPAD - NIVEL I / MÓDULO I

Nombre: _____

Apellidos: _____

Localidad donde se realiza la prueba: _____

Lea atentamente todas estas instrucciones antes de empezar:

El examen consta de 6 cuestiones. Encontrará el valor de cada una junto a su enunciado.

Se tendrá muy en cuenta en la valoración de la respuesta: la limpieza, la expresión (uso del vocabulario propio de la Geografía e Historia) y la ortografía.

Cuide la presentación. Si Ud. realiza rectificaciones en alguna cuestión deje claro cuál es la opción que deberá ser corregida. En caso contrario no se puntuará.

Refleje sus respuestas con bolígrafo negro o azul. El examen a lápiz no se corregirá y tendrá la calificación de **CERO**.

La manipulación de cualquier tipo de dispositivo tecnológico durante la prueba, incluso apagado, del diccionario o de cualquier otro tipo de documento, supondrá la retirada del mismo y la calificación automática del examen con un **CERO**.

CALIFICACIÓN	
---------------------	--

1. Elija la respuesta correcta, de las cuatro que se formulan (A,B,C,D), a las siguientes preguntas. (2 puntos – 0,1 por cada acierto. Cada tres fallos resta 0,1 punto)

¡Atención! Escriba la respuesta correcta en el siguiente recuadro, solamente la respuesta que aquí aparezca será considerada válida.

1ª	2ª	3ª	4ª	5ª	6ª	7ª	8ª	9ª	10ª

11ª	12ª	13ª	14ª	15ª	16ª	17ª	18ª	19ª	20ª

1. ¿A qué continente pertenece el río Amarillo?	
a) Europa	c) África
b) América	d) Asia

2. ¿Cuál es el clima predominante en Extremadura?	
a) Oceánico	c) Mediterráneo
b) Atlántico	d) Tropical

3. ¿Con qué instrumento medimos la dirección del viento?	
a) Velea	c) Pluviómetro
b) Anemómetro	d) Barómetro

4. Las Rocosas se encuentran en...	
a) Europa	c) África
b) América	d) Ninguna opción es correcta

5. La agricultura nacerá en...	
a) Mesopotamia y Marruecos	c) Egipto y Mesopotamia
b) Marruecos y sur de Europa	d) Egipto y Marruecos

6. La Prehistoria abarca desde la aparición del ser humano hasta...	
a) La aparición de la ganadería	c) La aparición del fuego
b) La aparición de la agricultura	d) La aparición de la escritura

7. ¿A qué contenedor tiramos los envases de plástico, latas y bricks?	
a) Al verde	c) Al rojo
b) Al amarillo	d) Al azul

8. ¿Qué civilización denominó al mar Mediterráneo Mare Nostrum?	
a) La civilización griega	c) La civilización egipcia
b) La civilización romana	d) Ninguna opción es correcta

9. ¿Qué científico desarrolló la teoría de la evolución?	
a) Lubbok	c) Darwin
b) Newton	d) Einstein

10. ¿Cuál de los siguientes monumentos romanos NO está en Mérida?	
a) Arco de Trajano	c) Arco de Cáparra
b) Acueducto de los Milagros	d) Templo de Diana
11. ¿Qué dos ríos destacan en Mesopotamia?	
a) Tigris y Nilo	c) Éufrates y Danubio
b) Tigris y Éufrates	d) Tigris y Volga
12. ¿Cuál era la capital de Lusitania?	
a) Emerita Augusta	c) Augustobriga
b) Norba Caeserina	d) Lulipa
13. ¿Cómo se llama el estrecho que separa Europa de África?	
a) Ceuta	c) Mediterráneo
b) Algeciras	d) Gibraltar
14. ¿Cuál de los siguientes ríos NO pasa por Extremadura?	
a) Tajo	c) Jerte
b) Salor	d) Júcar
15. ¿En qué dirección señala siempre la aguja de una brújula?	
a) Este	c) Oeste
b) Sur	d) Norte
16. Sócrates, Platón y Aristóteles eran filósofos...	
a) Romanos	c) Griegos
b) Egipcios	d) Fenicios
17. Los Juegos Olímpicos aparecieron en la civilización...	
a) Romana	c) Egipcia
b) Griega	d) Ninguna opción es correcta
18. ¿En qué época se dieron las conquistas de Alejandro Magno?	
a) Durante la época clásica	c) Durante la época micénica
b) Durante la época arcaica	d) Durante la época helenística
19. El hombre del Neolítico se alimenta gracias a...	
a) La recolección	c) La agricultura y la ganadería
b) La caza y la recolección	d) La caza
20. ¿Cómo son los ríos de las Islas Canarias?	
a) Cortos y con gran caudal	c) Largos y caudalosos
b) Largos y con poco caudal	d) Ninguna opción es correcta

2. Complete el siguiente “pasapalabra” con las palabras que correspondan.

(1 punto – 0,1 por cada acierto)

¡Atención! Escriba la respuesta correcta en el siguiente recuadro, solamente la respuesta que aquí aparezca será considerada válida.

1ª	2ª	3ª	4ª	5ª
6ª	7ª	8ª	9ª	10ª

1. Empieza por C. Masa de tierra que se adentra en el mar. _____
2. Empieza por N. Periodo en el cual aparecen la agricultura y la ganadería.

3. Empieza por T. Cultura a la que pertenece el palacio-santuario de Cancho Roano

4. Empieza por P. Objeto que usamos para medir las precipitaciones.

5. Empieza por D. Clima cuyas temperaturas superan los 50°C y las precipitaciones son escasas. _____
6. Empieza por T. Río muy importante en la cultura mesopotámica. _____
7. Empieza por A. Una de las dos principales polis griegas.





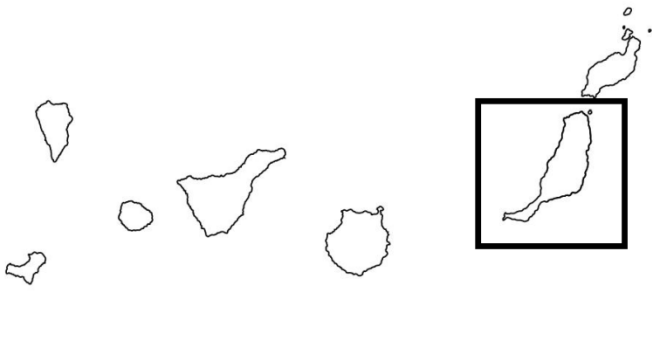
8. Empieza por F. Pueblo que estableció colonias en las costas del sur de España y el Levante desde el año 1.000 a.C. _____
9. Empieza por R. Piedra que contiene el mismo texto escrito en tres alfabetos: jeroglífico, demótico y griego, lo que nos permitió comprender la escritura egipcia.



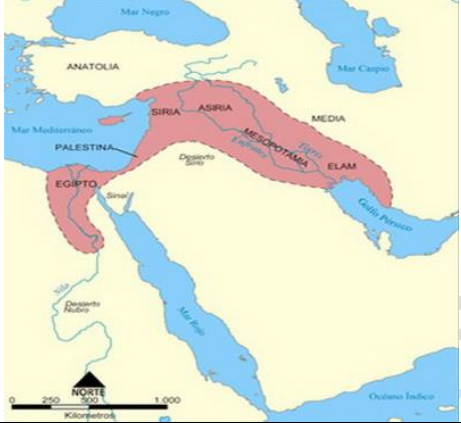

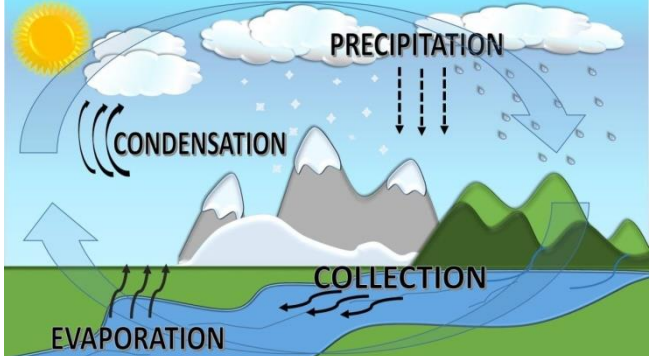
10. Empieza por A. Nombre del emperador romano que fundó Emerita Augusta (Mérida). _____

3. Elija la opción correcta (A,B,C,D) a las siguientes preguntas relacionadas con las imágenes (1 punto – 0,1 por cada acierto)

¡Atención! Escriba la respuesta correcta en el siguiente recuadro, solamente la respuesta que aquí aparezca será considerada válida.

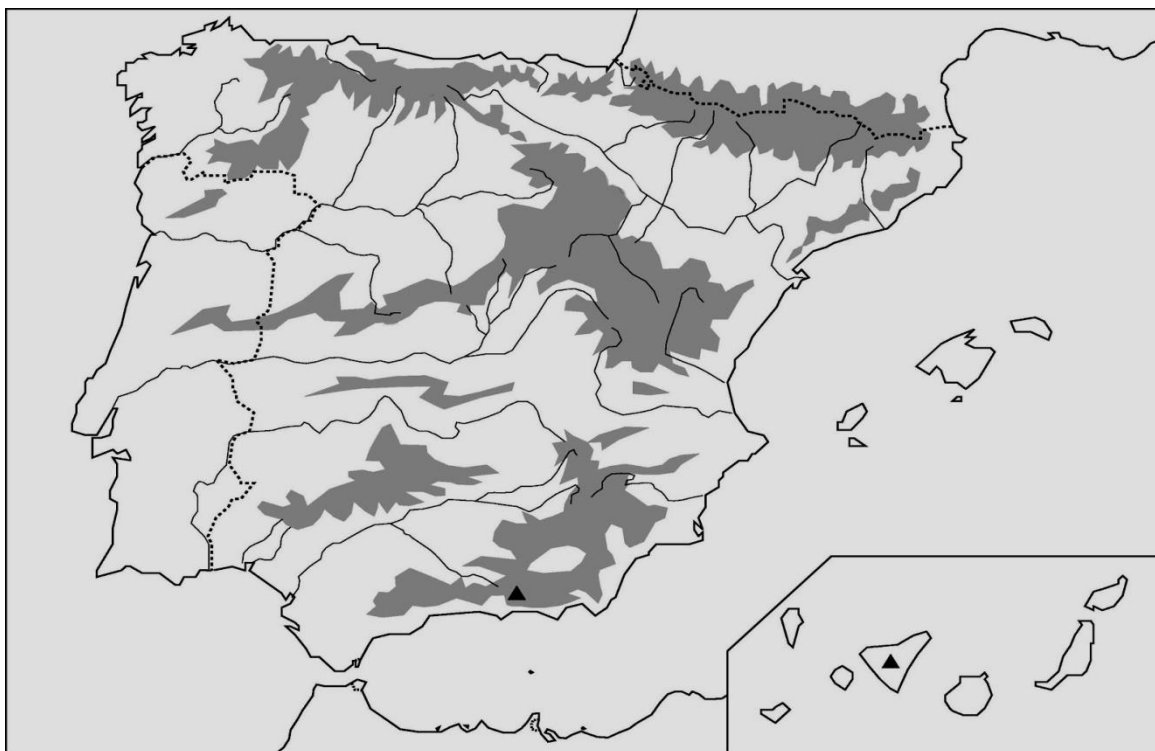
1ª	2ª	3ª	4ª	5ª	6ª	7ª	8ª	9ª	10ª

	<p>1. ¿Qué representa la imagen?</p> <p>a) Una taula b) Un dolmen de corredor c) Un menhir d) Un cromlech</p>
	<p>2. ¿Cómo se llama el proceso que se representa en la imagen?</p> <p>a) El proceso de hominización b) El proceso de desarrollo corporal c) El proceso de desarrollo humano d) El proceso de mononización</p>
	<p>3. ¿A qué civilización pertenece este teatro?</p> <p>a) Egipto b) Grecia c) Mesopotamia d) Ninguna opción es correcta</p>
	<p>4. ¿Qué representa la imagen?</p> <p>a) La Dama de Elche b) Una venus prehistórica c) Una diosa griega d) Al dios Anubis</p>
	<p>5. ¿Qué isla canaria aparece señalada dentro del recuadro negro?</p> <p>a) Fuerteventura b) Lanzarote c) La Gomera d) El Hierro</p>

	<p>6. ¿Qué monumento romano se puede observar en la imagen?</p> <p>a) Templo de Diana b) Cripta de Santa Eulalia c) Templo de Debod d) Templo de Mitreo</p>
	<p>7. ¿Cuál es el estilo del capitel que aparece en la imagen?</p> <p>a) Dórico b) Corintio c) Cariátide d) Jónico</p>
	<p>8. ¿Qué representa el mapa?</p> <p>a) El Imperio romano b) El lugar donde surgió la agricultura y la ganadería c) La máxima expansión territorial de Egipto d) Ninguna respuesta es correcta</p>
	<p>9. ¿Qué clima se representa en el mapa?</p> <p>a) Mediterráneo b) Polar c) Oceánico d) Norteño</p>
	<p>10. ¿Qué representa esta imagen?</p> <p>a) Ciclo de la precipitación b) Ciclo del agua c) Ciclo climático ambiental d) Ciclo de la condensación atmosférica</p>

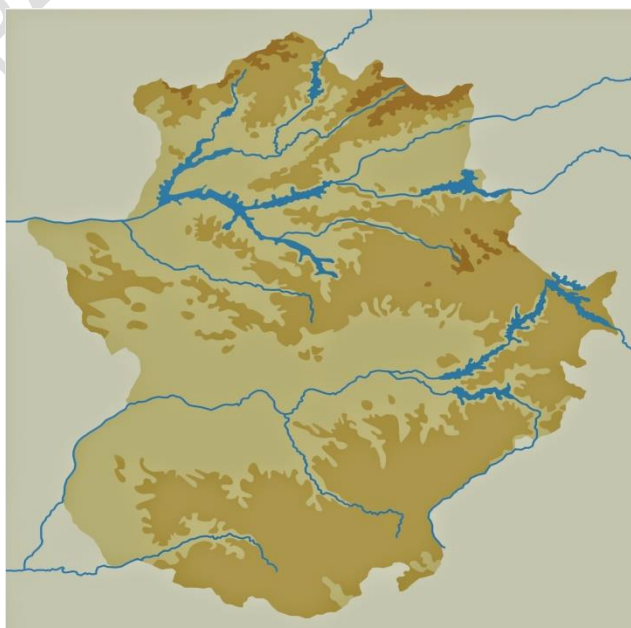
4. A – Sitúe en el mapa los siguientes accidentes geográficos. (1 punto – 0,1 por cada acierto)

RÍO DUERO	TEIDE	GOLFO DE VALENCIA	IBIZA	MAR CANTÁBRICO
RÍO JÚCAR	SISTEMA IBÉRICO	MONTE VASCOS	MONTES DE LEÓN	RÍO LLOBREGAT



4. B – Sitúe en el mapa los siguientes accidentes geográficos de Extremadura (0,5 puntos – 0,1 por cada acierto)

SIERRA DE GATA	RÍO TAJO	SIERRA DE MONTÁNCHÉZ	RÍO GUADIANA	SIERRA MORENA
----------------	----------	----------------------	--------------	---------------



5. A – Indique con una “X” si las siguientes afirmaciones son verdaderas (V) o falsas (F). (1 punto – 0,1 por cada acierto. Cada dos fallos resta 0,1)

	V	F
<u>Ejemplo:</u> El objeto que usamos para orientarnos es el barómetro		X
Cuando el ser humano descubrió la agricultura y la ganadería se hizo nómada.		
El clima de las Islas Canarias es el subtropical.		
La sociedad griega se dividía en ciudadanos, no ciudadanos y esclavos.		
En el Paleolítico los seres humanos eran nómadas, vivían en cuevas y se alimentaban gracias a la caza y la recolección de frutos silvestres.		
El río Ebro desemboca en la vertiente mediterránea.		
La civilización griega, romana y egipcia se caracterizaban por ser monoteístas.		
El ágora era la plaza donde se encontraban las edificaciones más importantes de las ciudades romanas.		
Los tres órdenes arquitectónicos griegos son el dórico, el jónico y el corintio.		
La aparición de la rueda se dio en el Paleolítico.		
El río más destacado de Mesopotamia fue el río Nilo.		

5. B – Una vez seleccionadas las afirmaciones que son falsas, corríjalas, y escríbalas de forma correcta. (0,5 puntos)

Ejemplo: El objeto que usamos para orientarnos no es el pluviómetro, es la brújula.

6. Pregunta de desarrollo: Escriba todo lo que sepa a cerca de **dos** de los tres temas que se plantean a continuación. (3 puntos – 1,5 puntos cada tema)

¡Atención! Cuide la ortografía y la presentación, escribir faltas de ortografía, no poner acentos, comas, puntos,... penaliza.

- Escriba todo lo que sepa sobre los **climas de España** (Por ejemplo: diferentes climas que encontramos, lugar donde se dan, temperaturas y precipitaciones en cada uno de ellos, la flora y la fauna,...).
- Escriba todo lo que sepa sobre **Egipto** (Por ejemplo: situación geográfica, economía, arquitectura, sociedad, arte, cultura, religión,...).
- Escriba todo lo que sepa sobre la **romanización** (Por ejemplo: ¿Qué es?, ¿Dónde se da?, ¿Cómo afecta a la economía?, ¿Cómo influye en la cultura?, ¿Y en la arquitectura?,...)

Recuerde, desarrolle únicamente **dos** de los temas que se proponen.

CEPA ANTONIO MACHADO

CEPA ANTONIO MACHADO