



CEPA
"ANTONIO MACHADO" O"
Bda. de la Constitución, 17. 17
Zafra (Badajoz)
ESPAD
(SEMIPRESENCIAL) -)

Evaluación Ordinaria 05/06/2019
Prueba Nivel I Módulo II (2º)
Ámbito Social

GOBIERNO DE EXTREMADURA

Consejería de Educación y Cultura

Nombre y apellidos: _____

Fecha de nacimiento: _____

Localidad donde se realiza la Prueba: _____

ÁMBITO SOCIAL

La prueba consta de 2 partes:

Primera parte, CONCEPTUAL. El valor de esta primera parte es **de 5 puntos**.

En las preguntas de test, cada respuesta acertada se contabilizará con 0,5 puntos. Las respuestas en blanco no se contabilizarán. Cada **respuesta errónea restará 0,25 puntos**.

Segunda parte, PROCEDIMENTAL. Esta segunda parte tiene un valor total **de 5 puntos**.

En esta **segunda parte es imprescindible** obtener **al menos 1,5 puntos** para considerar el examen aprobado, siempre que la suma de **ambas partes alcance un mínimo de 5**.

Se tendrá muy en cuenta en la valoración de la **respuesta: la limpieza, la expresión (uso del vocabulario propio de la Geografía e Historia) y la ortografía**.

Cuide la presentación. Si Ud. realiza rectificaciones en alguna cuestión deje claro cuál es la opción que deberá ser corregida. En caso contrario no se puntuará.

Utilice si es necesario el reverso, de la/s página/s, en blanco, si las hubiere. Refleje sus respuestas con bolígrafo.

El examen **a lápiz no** se corregirá y tendrá la calificación de 0. Utilice bolígrafo azul o negro. **NO** se podrá utilizar el teléfono **móvil, NI el diccionario**.

CALIFICACIÓN

--

PRIEMERA PARTE (5 PUNTOS)

Coloque en esta tabla con letra mayúscula (A - B- C - D) la opción correcta. Sólo una opción es la correcta.

1	2	3	4	5	6

A) TEST (Valor 3 puntos)

1. Durante el Imperio Carolingio, Carlomagno dividió el imperio en...(elegir dos)

- A) Marcas.
- B) Condados.
- C) Provincias.
- D) Ducados.

2. La invasión musulmana de la Península Ibérica se produce en el año...

- A) 929.
- B) 1492.
- C) 711.
- D) 756.

3. Durante la Reconquista, el tributo pagado por los musulmanes a los cristianos se denominaba...

- A) Impuesto.
- B) Alcabala.
- C) Fuero.
- D) Paria.

4. Cristianos que durante la dominación musulmana vivían en territorio musulmán...

- A) Mozárabe.
- B) Mudéjar.
- C) Judíos.
- D) Criollo.

5. Lugar donde están esculpidas las figuras de la portada románica.

- A) Dintel.

- B) Tímpano.
- C) Parteluz.
- D) Arquivolta.

6. Pobladores de Hispania tras la caída del Imperio romano de occidente ...

- A) Anglos.
- B) Sajones y visigodos.
- C) Francos.
- D) Visigodos.

B) DEFINICIÓN DE CONCEPTOS. (Valor 1 punto)

- **Guerra de los Treinta Años:**

- **Ilustración:**

- **Humanismo:**

- **Renacimiento:**

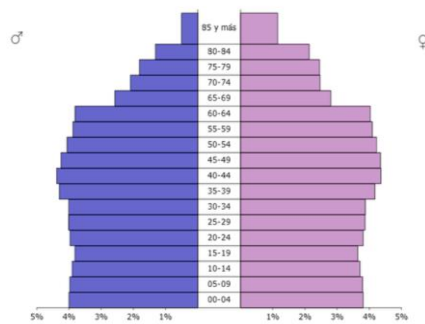
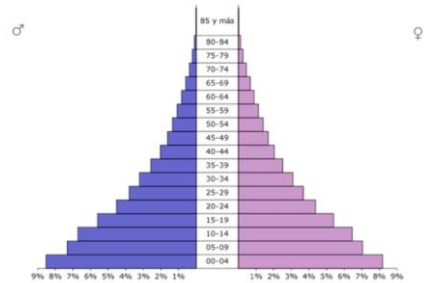
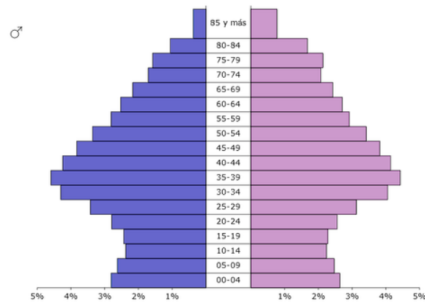
- **Fisiocracia:**

C) Responde brevemente a las siguientes preguntas: (Valor 1 punto)

1. Los factores que explican la desigual distribución de la población son el _____ y el _____. Además, están el _____, la _____ y la _____.
2. La Fase 2 o inicio de transición demográfica se caracteriza por una mortalidad _____, natalidad _____ y por el comienzo de la _____.
3. Los diferentes empleos o profesiones de la población activa se agrupan en los tres sectores, que son: _____, _____, y _____.
4. En la actualidad, la población española presenta los siguientes rasgos característicos: El _____ y el _____.

SEGUNDA PARTE (5 PUNTOS)

1. Haga un comentario sobre la información que arrojan estos gráficos. Indique qué tipo de información proporcionan, qué características tienen y ponga ejemplos que justifiquen sus afirmaciones. (2 puntos)



2. Indique las características de la política interior y exterior de los Reyes Católicos. (2 puntos)

3. Analice las siguientes imágenes artísticas, indicando estilo, tipología y características generales. (1 punto).

1.



2.



3.



