

EXAMEN ORDINARIO DEL ÁMBITO SOCIAL

1º ESPAD - NIVEL I / MÓDULO I

Nombre: _____

Apellidos: _____

Localidad donde se realiza la prueba: _____

Lea atentamente todas estas instrucciones antes de empezar:

El examen consta de 6 cuestiones. Encontrará el valor de cada una junto a su enunciado.

Se tendrá muy en cuenta en la valoración de la respuesta: la limpieza, la expresión (uso del vocabulario propio de la Geografía e Historia) y la ortografía.

Cuide la presentación. Si Ud. realiza rectificaciones en alguna cuestión deje claro cuál es la opción que deberá ser corregida. En caso contrario no se puntuará.

Refleje sus respuestas con bolígrafo negro o azul. El examen a lápiz no se corregirá y tendrá la calificación de **CERO**.

La manipulación de cualquier tipo de dispositivo tecnológico durante la prueba, incluso apagado, del diccionario o de cualquier otro tipo de documento, supondrá la retirada del mismo y la calificación automática del examen con un **CERO**.

CALIFICACIÓN	
---------------------	--

1. Elija la respuesta correcta, de las cuatro que se formulan (A,B,C,D), a las siguientes preguntas. (2 puntos – 0,1 por cada acierto. Cada dos fallos resta 0,1 punto)

¡Atención! Escriba la respuesta correcta en el siguiente recuadro, solamente la respuesta que aquí aparezca será considerada válida.

1ª	2ª	3ª	4ª	5ª	6ª	7ª	8ª	9ª	10ª

11ª	12ª	13ª	14ª	15ª	16ª	17ª	18ª	19ª	20ª

1. ¿En qué vertiente desemboca el río Ebro?	
a) Mediterránea	c) Oceánica
b) Cantábrica	d) Atlántica

2. ¿Cuál es el clima predominante en Extremadura?	
a) Oceánico	c) Mediterráneo
b) Desértico	d) Subtropical

3. ¿Con qué instrumento medimos la presión atmosférica?	
a) Barómetro	c) Pluviómetro
b) Anemómetro	d) Ninguna opción es correcta

4. Las primeras grandes civilizaciones se caracterizaban por ser...	
a) Monoteístas	c) Aconfesionales
b) Cristianos	d) Politeístas

5. La agricultura nacerá en...	
a) Mesopotamia y Marruecos	c) Egipto y Marruecos
b) Marruecos y sur de Europa	d) Egipto y Mesopotamia

6. La Prehistoria abarca desde la aparición del ser humano hasta...	
a) La aparición de la escritura	c) La aparición del fuego
b) La aparición de la agricultura	d) La aparición de los romanos

7. ¿A qué cultura pertenece el dolmen, menhir y Cromlech?	
a) Cultura de El Argar	c) Cultura de los Millares
b) Cultura Megalítica	d) Cultura Paleolítica

8. Los tres órdenes arquitectónicos usados por los griegos fueron...	
a) Dórico, Arco y Foro	c) Corintio, Ágora y Jónico
b) Dórico, Jónico y Corintio	d) Jónico, Arco y Ágora

9. ¿Qué científico desarrolló la teoría de la evolución?	
a) Lubbok	c) Erectus
b) Darwin	d) Ninguna opción es correcta

10. ¿Cuál de los siguientes monumentos romanos NO está en Mérida?	
a) Arco de Trajano	c) Arco de Cáparra
b) Acueducto de los Milagros	d) Templo de Diana
11. ¿Qué dos ríos destacan en Mesopotamia?	
a) Tigris y Nilo	c) Éufrates y Danubio
b) Tigris y Éufrates	d) Tigris y Volga
12. ¿Qué es el Código de Hammurabi?	
a) Unas leyes que regían la sociedad en Mesopotamia	c) Las normas de comportamiento de los faraones egipcios
b) El texto de fundación de Roma	d) Ninguna opción es correcta
13. ¿Cómo se llama el estrecho que separa Europa de África?	
a) Ceuta	c) Mediterráneo
b) Algeciras	d) Gibraltar
14. ¿Cuál de los siguientes ríos no pasa por Extremadura?	
a) Alagón	c) Jerte
b) Salor	d) Tinto
15. ¿En qué dirección señala siempre la aguja de una brújula?	
a) Norte	c) Oeste
b) Sur	d) Este
16. El Tesoro de Aliseda pertenece a la cultura...	
a) De los Millares	c) Tartésica
b) Celtíbera	d) Fenicia
17. Roma alcanzó su máxima expansión durante...	
a) El Imperio	c) La Monarquía
b) La República	d) Ninguna opción es correcta
18. ¿En qué época se dieron las conquistas de Alejandro Magno?	
a) Durante la época clásica	c) Durante la época micénica
b) Durante la época arcaica	d) Durante la época helenística
19. El hombre del Paleolítico se alimenta gracias a...	
a) La caza y la recolección	c) La agricultura y la ganadería
b) La agricultura	d) La actividad comercial
20. ¿Cómo son los ríos de las Islas Canarias?	
a) Cortos y con gran caudal	c) Largos y caudalosos
b) Largos y con poco caudal	d) Ninguna opción es correcta

2. Complete el siguiente “pasapalabra” con las palabras que correspondan.

(1 punto – 0,1 por cada acierto)

¡Atención! Escriba la respuesta correcta en el siguiente recuadro, solamente la respuesta que aquí aparezca será considerada válida.

1ª	2ª	3ª	4ª	5ª
6ª	7ª	8ª	9ª	10ª

1. Empieza por L. Capa externa del globo terrestre, formada por el manto superior y la corteza rígida. _____
2. Empieza por R. Proceso mediante el cual los pobladores de Hispania fueron asumiendo la cultura romana y adaptándose a la manera de vivir de los romanos.

3. Empieza por T. Zona climática que se sitúa entre los trópicos y los círculos polares.






4. Empieza por V. El aire en movimiento. _____
5. Empieza por B. Provincia de mayor tamaño de España. _____
6. Empieza por F. Persona que en la cultura egipcia era considerado un dios y tenía poder absoluto. _____
7. Empieza por C. En la ciudad romana, vía principal que cruza la ciudad de Norte a Sur. _____
8. Empieza por L. Pueblo que habitaba el centro y sur de Extremadura antes de la llegada de los romanos, y cuyo caudillo fue Viriato. _____
9. Empieza por R. Piedra que contiene el mismo texto escrito en tres alfabetos: jeroglífico, demótico y griego, lo que nos permitió comprender la escritura egipcia.


10. Empieza por N. Río junto al cual se desarrolló la civilización egipcia.

3. Elija la opción correcta (A,B,C,D) a las siguientes preguntas relacionadas con las imágenes (1 punto – 0,1 por cada acierto)

¡Atención! Escriba la respuesta correcta en el siguiente recuadro, solamente la respuesta que aquí aparezca será considerada válida.

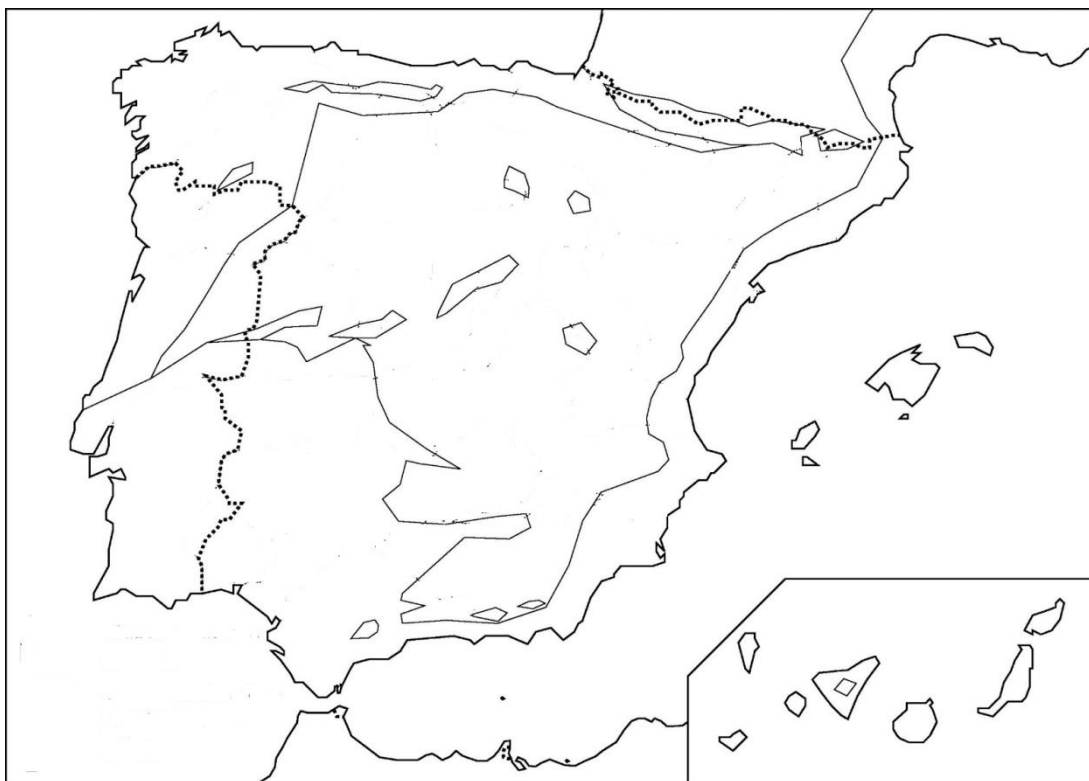
1ª	2ª	3ª	4ª	5ª	6ª	7ª	8ª	9ª	10ª

	<p>1. ¿Qué representa la imagen?</p> <ul style="list-style-type: none"> a) Un menhir b) Un dolmen c) Una taula d) Un cromlech
	<p>2. ¿Cómo se llama el proceso que se representa en la imagen?</p> <ul style="list-style-type: none"> a) El proceso de hominización b) El proceso de desarrollo humano c) El proceso de cambios del hombre d) Ninguna opción es correcta
	<p>3. ¿Qué civilización representa el mapa?</p> <ul style="list-style-type: none"> a) Egipto b) Roma c) Grecia d) Mesopotamia
	<p>4. ¿A qué cultura pertenece esta escultura?</p> <ul style="list-style-type: none"> a) Íbera b) Egipcia c) Romana d) Griega
	<p>5. ¿De qué época es esta pintura?</p> <ul style="list-style-type: none"> a) Edad de los metales b) Roma c) Paleolítico d) Mesopotamia

	<p>6. ¿Dónde se encuentra este puente romano?</p> <ul style="list-style-type: none"> a) Mérida b) Alcántara c) Plasencia d) Casas de la Reina
	<p>7. ¿A qué civilización pertenece esta escultura?</p> <ul style="list-style-type: none"> a) Roma b) Egipto c) Mesopotamia d) Grecia
	<p>8. ¿Qué representa el mapa?</p> <ul style="list-style-type: none"> a) El lugar donde surgió la agricultura y la ganadería b) Territorio del Alto Egipto c) La máxima expansión territorial de Egipto d) Ninguna respuesta es correcta
	<p>9. ¿Qué clima se representa en el mapa?</p> <ul style="list-style-type: none"> a) Oceánico b) Desértico c) Subtropical d) Mediterráneo de interior
	<p>10. ¿Qué representa esta imagen?</p> <ul style="list-style-type: none"> a) Ciclo de la condensación b) Ciclo climático ambiental c) Ciclo del agua d) Ciclo de la evaporación atmosférica

4. A - En el siguiente mapa, sitúe donde se encuentran los diferentes climas de España. (0,5 puntos – 0,1 por cada acierto)

Clima Oceánico	Clima Subtropical	Clima de Alta Montaña	Clima Mediterráneo de interior	Clima Mediterráneo litoral
----------------	-------------------	-----------------------	--------------------------------	----------------------------



4. B – Explique de forma breve las características de **dos** de los climas existentes en España (Temperatura, precipitaciones, vegetación, fauna, ríos,...) (1 punto – 0,5 por clima)

➤

➤

5. A – Indique con una “X” si las siguientes afirmaciones son verdaderas (V) o falsas (F). (1 punto – 0,1 por cada acierto. Cada dos fallos resta 0,1)

	V	F
<u>Ejemplo:</u> El objeto que usamos para orientarnos es el pluviómetro		X
Cuando el ser humano descubrió la agricultura y la ganadería se hizo sedentario.		
Los egipcios llamaron al mar Mediterráneo, Mare Nostrum.		
Los primeros campos de cultivos que se dieron fueron de frutales.		
Las mujeres en Grecia y en Roma no podían participar en la actividad política.		
El río Tajo desemboca en la vertiente mediterránea.		
Las mayores reservas de agua dulce del planeta Tierra se encuentran en los glaciares y en los casquetes polares.		
Emerita Augusta fue capital de la provincia romana llamada Lusitania.		
Los Montes de Toledo, cuyas cimas más importantes en nuestra comunidad son Sierra de San Pedro, Montánchez y Villuercas, se encuentran al sur de Extremadura.		
En el Neolítico se da un reparto de funciones entre hombres y mujeres, los hombres cultivan la tierra y fabrican tejidos, mientras, las mujeres cazan y cuidan el ganado.		
Debido al excedente agrícola aparecerá el comercio.		

5. B – Una vez seleccionadas las afirmaciones que son falsas, corríjalas, y escríbalas de forma correcta. (0,5 puntos)

Ejemplo: El objeto que usamos para orientarnos no es el pluviómetro, es la brújula.

6. Pregunta de desarrollo: Escriba todo lo que sepa a cerca de **dos** de los tres temas que se plantean a continuación. (3 puntos – 1,5 puntos cada tema)

¡Atención! Cuide la ortografía y la presentación, escribir faltas de ortografía, no poner acentos, comas, puntos,... penaliza.

- Escriba todo lo que sepa sobre el **Neolítico** (Economía, sociedad, vivienda, nuevos instrumentos, religión, arte,...).
- Escriba todo lo que sepa sobre **Mesopotamia** (Situación geográfica, economía, sociedad, arte, cultura, religión,...).
- Escriba todo lo que sepa sobre los **problemas del medio ambiente** y las distintas formas que tenemos para **conservar la naturaleza**.

Recuerde, desarrolle únicamente **dos** de los temas que se proponen.

CEPA ANTONIO MACHADO

CEPA ANTONIO MACHADO