



# EXAMEN DEL ÁMBITO SOCIAL

## 1º ESPAD - NIVEL I / MÓDULO I

Nombre: \_\_\_\_\_

Apellidos: \_\_\_\_\_

Localidad donde se realiza la prueba: \_\_\_\_\_

Lea atentamente todas estas instrucciones antes de empezar:

El examen consta de 6 cuestiones. Encontrará el valor de cada una junto a su enunciado.

Se tendrá muy en cuenta en la valoración de la respuesta: la limpieza, la expresión (uso del vocabulario propio de la Geografía e Historia) y la ortografía.

Cuide la presentación. Si Ud. realiza rectificaciones en alguna cuestión deje claro cuál es la opción que deberá ser corregida. En caso contrario no se puntuará.

Refleje sus respuestas con bolígrafo negro o azul. El examen a lápiz no se corregirá y tendrá la calificación de **CERO**.

La manipulación de cualquier tipo de dispositivo tecnológico durante la prueba, incluso apagado, del diccionario o de cualquier otro tipo de documento, supondrá la retirada del mismo y la calificación automática del examen con un **CERO**.

<b>CALIFICACIÓN</b>	
---------------------	--

1. Elija la respuesta correcta, de las cuatro que se formulan (A,B,C,D), a las siguientes preguntas. (2 puntos – 0,1 por cada acierto. Cada tres fallos resta 0,1 punto, en blanco no resta nada)

**¡Atención!** Escriba la respuesta correcta en el siguiente recuadro, solamente la respuesta que aquí aparezca será considerada válida.

1ª	2ª	3ª	4ª	5ª	6ª	7ª	8ª	9ª	10ª

11ª	12ª	13ª	14ª	15ª	16ª	17ª	18ª	19ª	20ª

1. ¿A qué continente pertenece el río Volga?	
a) Europa	c) África
b) América	d) Asia

2. ¿Cuál es el clima predominante en Extremadura?	
a) Oceánico	c) Mediterráneo
b) Atlántico	d) Tropical

3. ¿Con qué instrumento medimos la presión atmosférica?	
a) Veleta	c) Pluviómetro
b) Anemómetro	d) Barómetro

4. El Himalaya se encuentra en...	
a) Europa	c) África
b) América	d) Asia

5. La agricultura nacerá en...	
a) Mesopotamia y Marruecos	c) Egipto y Mesopotamia
b) Marruecos y sur de Europa	d) Egipto y Marruecos

6. La Prehistoria abarca desde la aparición del ser humano hasta...	
a) La aparición de la ganadería	c) La aparición del fuego
b) La aparición de la agricultura	d) La aparición de la escritura

7. ¿A qué contenedor tiramos el vidrio?	
a) Al verde	c) Al rojo
b) Al amarillo	d) Al azul

8. ¿Qué civilización denominó al mar Mediterráneo Mare Nostrum?	
a) La civilización griega	c) La civilización egipcia
b) La civilización romana	d) Ninguna opción es correcta

9. ¿Qué científico desarrolló la teoría de la evolución?	
a) Lubbok	c) Darwin
b) Newton	d) Einstein

10. ¿Cuál de los siguientes monumentos romanos está en Mérida?	
a) Arco de Cáparra	c) Arco de Trajano
b) Pórtico romano de Augustobriga	d) Todos están en Mérida
11. ¿Qué dos ríos destacan en Mesopotamia?	
a) Tigris y Nilo	c) Éufrates y Danubio
b) Tigris y Éufrates	d) Tigris y Volga
12. ¿Cuál era la capital de Lusitania?	
a) Emerita Augusta	c) Augustobriga
b) Norba Caeserina	d) Lulipa
13. ¿Cómo se llama el estrecho que separa Europa de África?	
a) Ceuta	c) Mediterráneo
b) Algeciras	d) Gibraltar
14. ¿Cuál de los siguientes ríos NO pasa por Extremadura?	
a) Tajo	c) Miño
b) Tietar	d) Salor
15. ¿En qué dirección señala siempre la aguja de una brújula?	
a) Este	c) Oeste
b) Sur	d) Norte
16. Sócrates, Platón y Aristóteles eran filósofos...	
a) Romanos	c) Griegos
b) Egipcios	d) Fenicios
17. Los Juegos Olímpicos aparecieron en la civilización...	
a) Romana	c) Egipcia
b) Mesopotámica	d) Ninguna opción es correcta
18. ¿Qué clima se caracteriza por tener temperaturas elevadas (25°C) y precipitaciones abundantes (1.500mm)?	
a) Desértico	c) De alta montaña
b) Ecuatorial	d) Continental
19. El hombre del Neolítico se alimenta gracias a...	
a) La recolección	c) La agricultura y la ganadería
b) La caza y la recolección	d) La caza
20. ¿Cómo son los ríos de la vertiente cantábrica?	
a) Cortos y con gran caudal	c) Largos y caudalosos
b) Largos y con poco caudal	d) Ninguna opción es correcta

2. Complete el siguiente “pasapalabra” con las palabras que correspondan.

(1 punto – 0,1 por cada acierto)

**¡Atención!** Escriba la respuesta correcta en el siguiente recuadro, solamente la respuesta que aquí aparezca será considerada válida.





1 <sup>a</sup>	2 <sup>a</sup>	3 <sup>a</sup>	4 <sup>a</sup>	5 <sup>a</sup>
6 <sup>a</sup>	7 <sup>a</sup>	8 <sup>a</sup>	9 <sup>a</sup>	10 <sup>a</sup>





1. Empieza por T. Estudio de una serie de elementos atmosféricos, humedad, temperatura, presión, vientos y precipitaciones, en un lugar y en un momento determinado. \_\_\_\_\_
2. Empieza por H. Primer representante del género Homo.  
\_\_\_\_\_
3. Empieza por N. Periodo histórico que significa “piedra nueva”  
\_\_\_\_\_
4. Empieza por P. Objeto que usamos para medir las precipitaciones.  
\_\_\_\_\_
5. Empieza por D. Clima cuyas temperaturas superan los 50°C y las precipitaciones son escasas. \_\_\_\_\_
6. Empieza por N. Río muy importante en la cultura egipcia. \_\_\_\_\_
7. Empieza por A. Una de las dos principales polis griegas.  
\_\_\_\_\_
8. Empieza por C. Nombre de la vía principal que cruzaba la ciudad romana de Norte a Sur. \_\_\_\_\_
9. Empieza por R. Piedra que contiene el mismo texto escrito en tres alfabetos: jeroglífico, demótico y griego, lo que nos permitió comprender la escritura egipcia.  
\_\_\_\_\_
10. Empieza por E. Personas que no tenían ningún derecho en la sociedad romana.  
\_\_\_\_\_


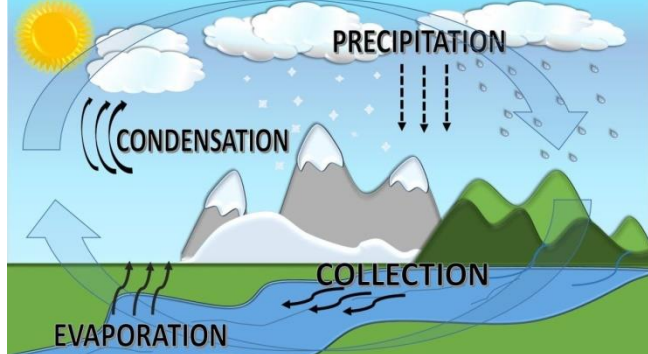
3. Elija la opción correcta (A,B,C,D) a las siguientes preguntas relacionadas con las imágenes (1 punto – 0,1 por cada acierto)

¡Atención! Escriba la respuesta correcta en el siguiente recuadro, solamente la respuesta que aquí aparezca será considerada válida.

1ª	2ª	3ª	4ª	5ª	6ª	7ª	8ª	9ª	10ª

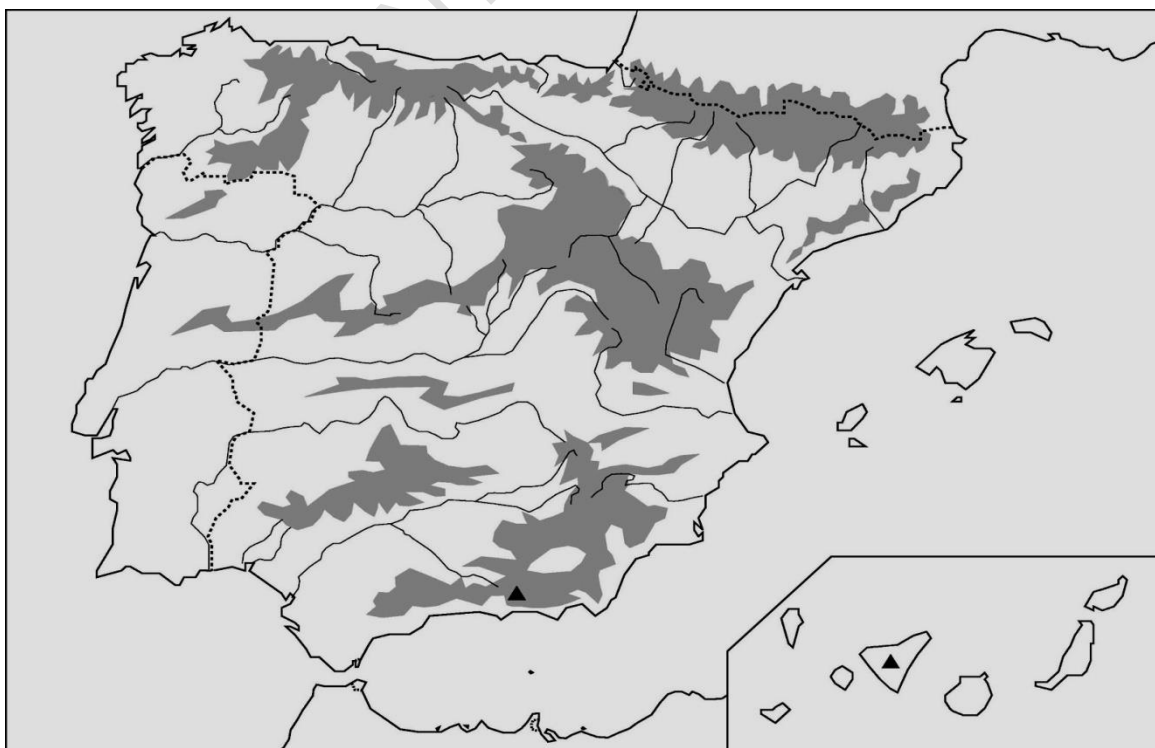
	<p>1. ¿Qué representa la imagen?</p> <ul style="list-style-type: none"> <li>a) Una taula</li> <li>b) Un dolmen de corredor</li> <li>c) Un menhir</li> <li>d) Un cromlech</li> </ul>
	<p>2. ¿Cómo se llama el proceso que se representa en la imagen?</p> <ul style="list-style-type: none"> <li>a) El proceso de hominización</li> <li>b) El proceso de desarrollo corporal</li> <li>c) El proceso de desarrollo humano</li> <li>d) El proceso de mononización</li> </ul>
	<p>3. ¿A qué civilización pertenece este teatro?</p> <ul style="list-style-type: none"> <li>a) Egipto</li> <li>b) Grecia</li> <li>c) Mesopotamia</li> <li>d) Roma</li> </ul>
	<p>4. ¿Qué representa la imagen?</p> <ul style="list-style-type: none"> <li>a) La Dama de Elche</li> <li>b) Una venus prehistórica</li> <li>c) Una diosa griega</li> <li>d) Al dios Anubis</li> </ul>

	<p>5. ¿Qué isla balear aparece señalada dentro del recuadro negro?</p> <ul style="list-style-type: none"> <li>a) Ibiza</li> <li>b) Menorca</li> <li>c) Formentera</li> <li>d) Mallorca</li> </ul>
	<p>6. ¿En qué localidad extremeña se encuentra este monumento romano?</p> <ul style="list-style-type: none"> <li>a) Mérida</li> <li>b) Alcántara</li> <li>c) Zalamea de la Serena</li> <li>d) Badajoz</li> </ul>
	<p>7. ¿De qué época es la escultura griega que aparece en la imagen?</p> <ul style="list-style-type: none"> <li>a) Arcaica</li> <li>b) Helenística</li> <li>c) Clásica</li> <li>d) Jónico</li> </ul>
	<p>8. ¿Qué representa el mapa?</p> <ul style="list-style-type: none"> <li>a) El Imperio romano</li> <li>b) El lugar donde surgió la agricultura y la ganadería</li> <li>c) La máxima expansión territorial de Egipto</li> <li>d) Ninguna respuesta es correcta</li> </ul>

	<p>9. ¿Qué clima se representa en el mapa?</p> <ul style="list-style-type: none"> <li>a) Mediterráneo</li> <li>b) De montaña</li> <li>c) Oceánico</li> <li>d) Subtropical</li> </ul>
	<p>10. ¿Qué representa esta imagen?</p> <ul style="list-style-type: none"> <li>a) Ciclo de la precipitación</li> <li>b) Ciclo del agua</li> <li>c) Ciclo climático ambiental</li> <li>d) Ciclo de la condensación atmosférica</li> </ul>

4. A – Sitúe en el mapa los siguientes accidentes geográficos. (1 punto – 0,1 por cada acierto)

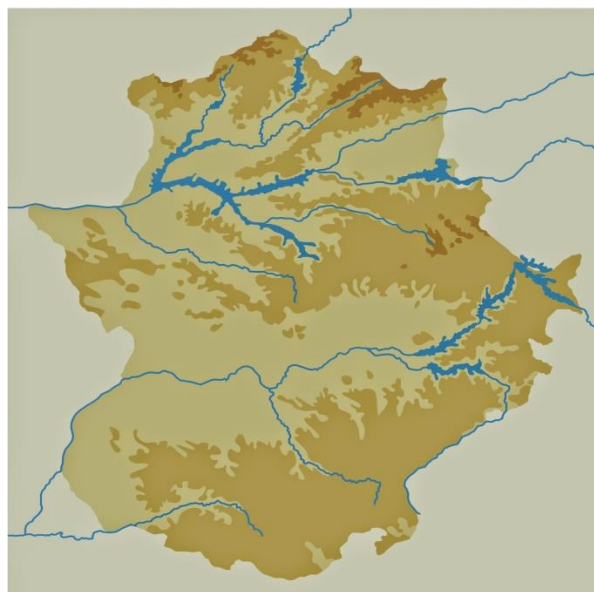
RÍO EBRO	MULHACEN	GOLFO DE VALENCIA	EL HIERRO	MAR CANTÁBRICO
RÍO GUADIANA	SISTEMA IBÉRICO	SISTEMA CENTRAL	MONTES DE LEÓN	RÍO LLOBREGAT





4. B – Sitúe en el mapa los siguientes accidentes geográficos de Extremadura (0,5 puntos – 0,1 por cada acierto)

SIERRA DE TENTUDÍA	RÍO ALAGÓN	SIERRA DE GUADALUPE	RÍO SALOR	LA SIBERIA EXTREMEÑA
--------------------	------------	---------------------	-----------	----------------------



5. A – Indique con una “X” si las siguientes afirmaciones son verdaderas (V) o falsas (F). (1 punto – 0,1 por cada acierto. Cada tres fallos resta 0,1)

	V	F
<u>Ejemplo:</u> El objeto que usamos para orientarnos es el barómetro		X
Cuando el ser humano descubrió la agricultura y la ganadería se hizo nómada.		
El clima de Galicia es el oceánico.		
El líder supremo en la sociedad egipcia era el Faraón.		
En el Paleolítico los seres humanos eran nómadas, vivían en cuevas y se alimentaban gracias a la caza y la recolección de frutos silvestres.		
El río Guadiana desemboca en la vertiente mediterránea.		
La civilización griega, romana y egipcia se caracterizaban por ser monoteístas.		
El foro era la plaza donde se encontraban las edificaciones más importantes de las ciudades romanas.		
Los tres órdenes arquitectónicos griegos son el dórico, el arco y la bóveda.		
El río más destacado de Mesopotamia fue el río Nilo.		



5. B – Una vez seleccionadas las afirmaciones que son falsas, corríjalas, y escríbalas de forma correcta. (0,5 puntos)

Ejemplo: El objeto que usamos para orientarnos no es el pluviómetro, es la brújula.

6. Pregunta de desarrollo: Escriba todo lo que sepa a cerca de **dos** de los tres temas que se plantean a continuación. (3 puntos – 1,5 puntos cada tema)

¡Atención! Cuide la ortografía y la presentación, escribir faltas de ortografía, no poner acentos, comas, puntos,... penaliza.

- Escriba todo lo que sepa sobre los **climas de España** (Por ejemplo: diferentes climas que encontramos, lugar donde se dan, temperaturas y precipitaciones en cada uno de ellos, la flora y la fauna,...).
- Escriba todo lo que sepa sobre **Egipto** (Por ejemplo: situación geográfica, economía, arquitectura, sociedad, arte, cultura, religión,...).
- Escriba todo lo que sepa sobre el **Neolítico** (Por ejemplo: economía, vivienda, arte, objetos utilizados, organización social, significado del nombre,...)

Recuerde, desarrolle únicamente **dos** de los temas que se proponen.

CEPA ANTONIO MACHADO